

ВСЕРОССИЙСКАЯ ОЛИМПИАДА ШКОЛЬНИКОВ
 ПО ТЕХНОЛОГИИ 2022 уч. г.
 Направление «Культура дома, дизайн и технологии»
 Пригласительный тур
 4–5 классы

Название части и № задания	Тип задания	Критерии
ОБЩАЯ ЧАСТЬ		
Задание 1	Выбрать один ответ	1 балл
Задание 2	Выбрать один ответ	1 балл
Задание 3	Краткий ответ	3 балла
Задание 4	Установить соответствие	За полностью верный ответ 2 балла
Задание 5	Краткий ответ	3 балла
СПЕЦИАЛЬНАЯ ЧАСТЬ		
Задание 1	Выбрать несколько ответов	За полностью верный ответ 2 балла
Задание 2	Установить соответствие	За полностью верный ответ 2 балла
Задание 3	Краткий ответ Выбрать несколько ответов	1 балл За полностью верный ответ 1 балл Максимум за задание 2 балла
Задание 4	Краткий ответ Выбрать несколько ответов	1 балл За полностью верный ответ 1 балл Максимум за задание 2 балла
Задание 5	Выбрать один ответ	2 балла
Задание 6	Установить соответствие	За каждую верную пару 1 балл Максимум за задание 3 балла
Задание 7	Выбрать один ответ	1 балл
Задание 8	Выбрать несколько ответов	За полностью верный ответ 2 балла
Задание 9	Установить соответствие	За полностью верный ответ 2 балла
Задание 10	Выбрать один ответ	2 балла

Максимум за работу – 30.

1 балл

Станция московского метро «Новослободская» украшена витражами, сделанными по эскизам художника Павла Корина. Витражи изготавливали в специальных мастерских, которые располагались в Риге. Большую часть композиции занимает рисунок из различных цветов, растений и звёзд. В верхней части шести витражей вставлены небольшие медальоны с изображением людей различных профессий. Рассмотрите предложенный фрагмент витража.



Определите, представитель какой профессии на нём изображён.

- врач
- блогер
- агроном
- инженер
- писатель
- музыкант
- строитель
- художник
- энергетик

№ 2

1 балл

Рассмотрите приведённую фотографию. Определите, какой бытовой прибор на ней изображён.



фен

утюг

пылесос

газонокосилка

стиральная машина

№ 3

3 балла

Из использованных алюминиевых банок в результате переработки можно изготовить много полезных вещей, например, рамы для велосипедов.

Узнать алюминиевые изделия, пригодные для переработки, можно по специальной экомаркировке (см. маркировку).



При переработке 800 алюминиевых банок получают достаточное количество металла для создания одной рамы для велосипеда.

Сколько таких банок потребуется переработать, чтобы изготовить 15 рам?

12000

2 балла

Установите соответствие между изделиями народных промыслов, изображёнными на рисунках, и названиями росписи, в которой они выполнены.



гжельская



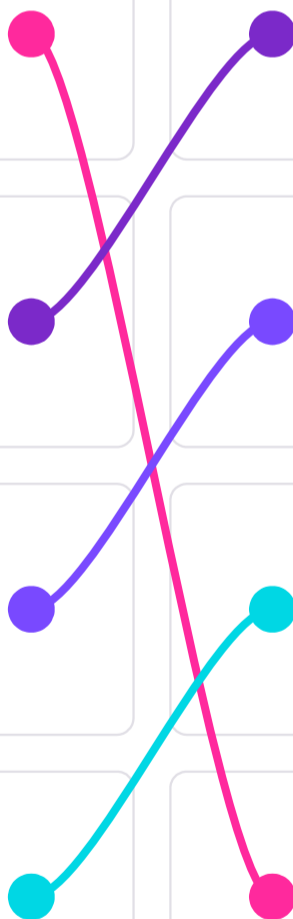
городецкая



жостовская



мезенская



№ 5

3 балла

Для подарка Маша решила собрать набор из одной синей ручки, одного простого карандаша, одного ластика и одной линейки. После просмотра ассортимента интернет-магазина Маша выбрала следующие товары (см. таблицу покупок).

Таблица покупок

№	Название	Цена в руб. за 1 шт.
1	Ручка шариковая синяя	70
2	Карандаш чёрнографитный Эко HB заточенный	17
3	Ластик каучуковый прямоугольный	16
4	Линейка 30 см пластиковая	27

Определите, сколько можно купить таких наборов на 2 тысячи рублей.

15

Специальная часть**№ 1**

2 балла

Для изготовления тряпичной куклы-мотанки ученица использовала различные материалы и инструменты. Что из перечисленного ниже является материалами?









Выберите все правильные ответы.







 ткань ножницы нитки линейка карандаш иголка

2 балла

Внимательно рассмотрите рисунки, изображающие старинные приспособления и современные приборы.

Старинные приборы	Современные приборы
	
	
	

Установите соответствие между старинными и современными устройствами, удовлетворяющими одну и ту же потребность.

Connections: An orange line connects the millstone grinder to the modern meat grinder. A blue line connects the embroidery hoop to the modern embroidery machine. Another blue line connects the vintage clothes iron to the modern hand mixer.

№ 3

2 балла

Отгадайте загадку, получите название пищевого продукта.

«Что за белые крупинки?
Не зерно и не снежинки.
Скисло молоко — и в срок
Получили мы ...»

творог

В рецепт каких блюд не входит отгаданный пищевой продукт ?

Выберите все правильные ответы.

ватрушка

сырник

борщ

гуляш

№ 4

2 балла

Решите ребус.



игла

Для чего применяется предмет из отгаданного ребуса?

Выберите все правильные ответы.

- Вязание крючком
- Вышивание
- Приготовление бутербродов
- Выполнение швейных работ

№ 5

2 балла


Выберите самые тонкие нитки из предложенного списка.







- № 80
- № 40
- № 60
- № 10

№ 6

3 балла

Установите соответствие между видами вышивки и их названиями.



1			вышивка гладью
2			вышивка тамбурным швом
3			вышивка крестом

№ 7

1 балл

Каким ручным швом обработан контур тела собачки в данной аппликации?



Выберите один правильный ответ.

- тамбурный
- крестообразный
- петельный
- стебельчатый

2 балла


Выберите изделия, выполненные с применением ручных стежков и строчек.

Выберите все правильные ответы.




2 балла


Установите соответствие между национальным костюмом и народом России, которому костюм принадлежит.




карелы



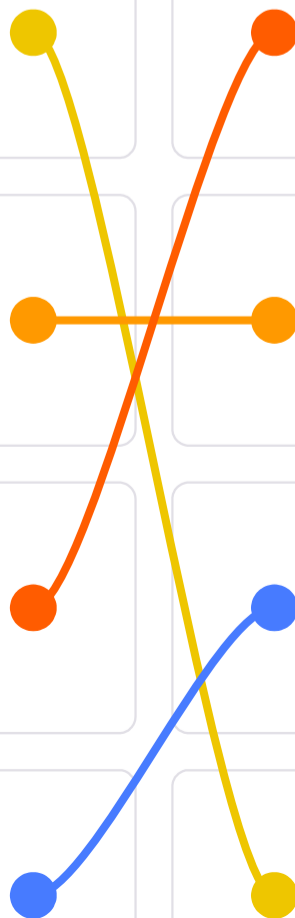
татары



якуты



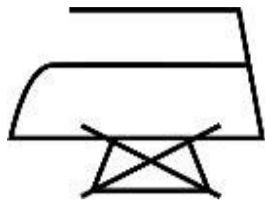
русские



№ 10

2 балла

Тоне купили новую юбку, на ярлычке по уходу за которой был такой значок.



Что он обозначает?

- бережная стирка
- химчистка запрещена
- сушить без отжима
- не отпаривать